



**A** Op de hoek van de Wilhelminalaan en de Hoekstraat:

**KRUISWOORDRAADSEL:**




**HORIZONTAAL:**


- 3 Het laatste woord van de naam van de winkel
- 7 Het merk van de drank die je warm en koud kunt drinken en die lekker is met slagroom

**VERTICAAL:**

- 1 Soort boom die je met Kerstmis opzet
- 2 Iemand leest een boek op het kunstwerk op de muur. Geen heer maar ...
- 4 De naam van de meest bekende clownsvijs
- 5 De naam van degene die de cadeaus met Kerstmis brengt
- 6 Naam van de speltak van Scouting voor de jeugd tussen 11 en 15 jaar



OPLOSSING, schrijf hieronder de letters met dezelfde kleur/letter. De oplossing geeft de waarde van A.



**B** Wat voor een vergunning hebben ze op nummer 10?

- 1. Drankvergunning
- 2. Tabakvergunning
- 3. Snijvergunning



Als het antwoord 1 is, dan is de waarde van B=1. Als het antwoord 2 is, dan is B=2. Als het antwoord 3 is, dan is B=3.


**C** Hoeveel kerstmannen, zoals het voorbeeld: antwoord heeft de waarde van C.



,vind je in de etalage van nummer 16A? Het

**D** Ga staan waar de kinderen staan, kijk in de richting van de "Koninklijke stoelen" en dan zie je op de achtergrond een soort kasteel. In welke windrichting kijk je nu?

Als het antwoord Noord is dan waarde van D=12, Noord-Oost dan D=2, Oost dan D=3, Zuid-Oost dan D=4, Zuid dan D=6, Zuid-West dan D=8, West dan D=9 en Noord-West dan D=10.



**E** Welke drie cijfers kun je vinden in de etalage op nummer 7? Zet de cijfers op volgorde van klein naar groot en dit geeft de waarde van E.

**F** Op huisnummer 70 staat een mooi bouwwerk. Je vindt hier een cijfer. Mocht je het cijfer niet kunnen vinden, dan kun je ook tellen uit hoeveel houten palen het kunstwerk bestaat. Het antwoord geeft de waarde van F.



**G** Zoek het cijfer in de etalage. Tel de losse cijfers bij elkaar op. Je kunt ook het aantal verlichte "kerstboompjes" tellen die voor het huis en winkel staan op nummer 30? Dit cijfer is de waarde van G

**H** Vraag 1: Hoeveel "vielen" er tijdens de Duitse bezetting volgens het plakkaat op het Betjes plein?  
Vraag 2: Ter gelegenheid van welk jubileum van de Katers werd het beeld van de kater geplaatst?  
Tel nu de aantallen van beide vragen bij elkaar op en dat geeft de waarde van H.

I staat niet op de kaart. Dit is een extra opdracht, deze kun je thuis al doen.

Zoek alle gekleurde/vetgedrukte/onderstreepte woorden op. De woorden kunnen in alle richtingen staan, ook schuin en ook van onder naar boven. Als je alle woorden hebt gevonden blijven er een elf letters over. Deze letters geven je de waarde van I



## Lichtjesweek

Scouting St Joris Maasniel en WijZijnMaasniel organiseren een tocht voor jullie samen, zo vlak voor de Kerst. Het is voor alle jeugd. Tijdens de route zien jullie overal lichtjes. Onderweg moet je goed speuren in de etalages. Als je een keer bij scouting komt kijken, dan maken we misschien wel een kampvuur. Dat is lekker warm en ook heel gezellig. Dan kunnen we marshmallows roosteren en een kop warme chocomelk drinken. Zoek alle gekleurde woorden uit het verhaal in deze woordzoeker. De letters die over blijven vormen een getal. Veel plezier met deze route en met deze puzzel.

D	S	J	V	W	O	O	R	D	E	N	M	
G	G	A	O	S	L	M	R	A	W	A	L	
U	I	R	M	R	E	I	J	T	S	R	E	K
E	L	O	F	E	I	E	N	S	Z	T	Z	
J	L	U	G	T	N	S	H	Z	S	O	D	
N	E	T	E	T	S	M	U	E	E	C	V	
E	Z	E	T	E	A	P	R	K	J	H	E	
R	E	T	A	L	A	G	E	S	T	T	R	
U	G	K	L	E	M	O	C	O	H	C	H	
E	T	O	G	N	I	T	U	O	C	S	A	
P	W	P	L	E	Z	I	E	R	I	I	A	
S	K	A	M	P	V	U	U	R	L	G	L	



Elke dag verandert het codeslot van de schatkist! De antwoorden, van A t/m I, die je tijdens de speurtocht vindt veranderen niet. Op de dag dat je er klaar voor bent om het codeslot te openen, zoek je op de website [www.scoutingstjoris.nl](http://www.scoutingstjoris.nl) naar de juiste berekening van het codeslot van die dag. De schatkist is van 19 t/m 26 december dagelijks, met de juiste code, te openen tussen 16:00 en 22:00u. Per kind mag er 1 beloning uit de kist worden gepakt, dan is er genoeg voor iedereen.

Als je twijfelt of de tijdens de speurtocht gevonden antwoorden juist zijn, check deze dan via [het controleformulier](#). Je krijgt dan direct te zien of er nog foutjes zijn. Als je alles goed hebt, ben je zover om de code van de schatkist te berekenen. Ga diezelfde dag nog naar de schatkist toe om je schat op te halen. Ga je morgen, bereken dan morgen de code opnieuw.

Heel veel plezier met de speurtocht. Als je deze speurtocht leuk vond, dan wil je misschien samen met ons nog meer van leuke dingen doen. Je kunt [3x gratis meedoen](#). Zo kun je zelf ontdekken of je Scouting leuk vindt.